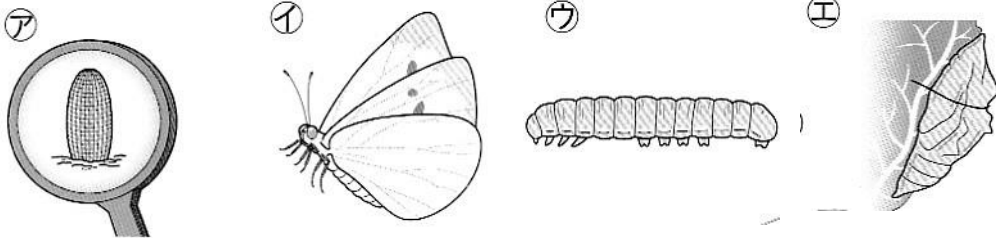


# こん虫と植物

1

① チョウのせい長するじゆんに記号を書きましょう。



⇒ ⇒ ⇒

② 上のア～エそれぞれの名前を書きましょう。

ア ( )                      イ ( )

ウ ( )                      エ ( )

③ チョウは決まった植物にたまごを産みます。チョウがたまごを生む植物を下からえらんで○でかこみましょう。

いね              スイレン              キャベツ              アサガオ

④ なぜ③の植物にたまごを生むのでしょうか。理由を書きましょう。

[ ]

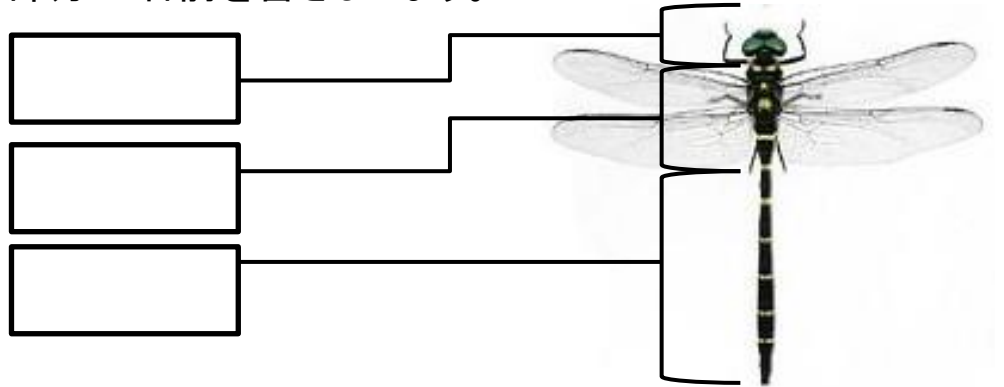
⑤ チョウのかんさつについて正しいものに○をつけましょう。

( ) エサの葉はよう虫が全部食べきってなくなったら入れる。

( ) かんさつノートにはページに日づけを書く。

( ) よう虫は手でさわってもよい。

- ① トンボの体は3つの部分に分けられます。  
それぞれの部分の名前を書きましょう。



- ② こん虫の足は何本ありますか。

(                    )

- ③ 次の文章の( )にあてはまる言葉を書きましょう。

チョウは(                    )→(                    )→(                    )→

(                    )のじゅんに育ちます。トンボやバッタは、たまご

から(                    )になり、何回か皮をぬいで(                    )に

なります。このようなこん虫は(                    )にはなりません。

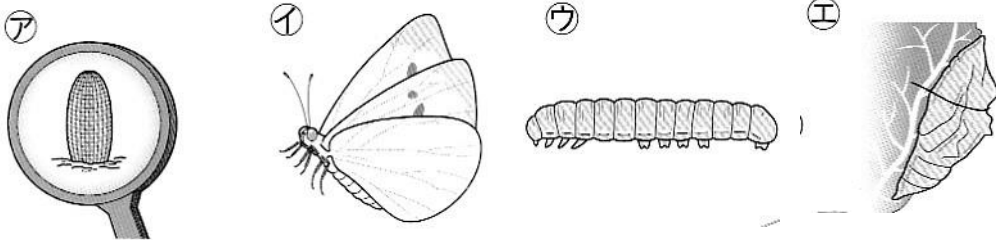
- ④ 次のこん虫の中から、チョウやトンボと同じ「こん虫」をすべて  
えらんで○でかこみましょう。



# こん虫と植物

1

① チョウのせい長するじゆんに記号を書きましょう。



ア ⇒ イ ⇒ ウ ⇒ エ ⇒ オ

② 上の①～④それぞれの名前を書きましょう。

① ( たまご )

② ( せい虫 )

③ ( よう虫 )

④ ( さなぎ )

③ チョウは決まった植物にたまごを生みます。チョウがたまごを生む植物を下からえらんで○でかこみましょう。

いね

スイレン

キャベツ

アサガオ

④ なぜ③の植物にたまごを生むのでしょうか。理由を書きましょう。

その葉がたまごからかえったよう虫の  
エサになるから。

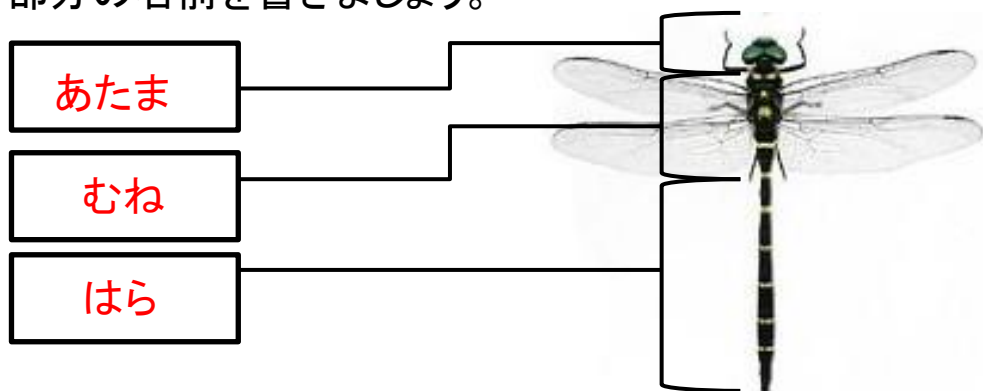
⑤ チョウのかんさつについて正しいものに○をつけましょう。

( ) エサの葉はよう虫が全部食べきってなくなったら入れる。

( ○ ) かんさつノートにはページに日づけを書く。

( ) よう虫は手でさわってもよい。

- ① トンボの体は3つの部分に分けられます。  
それぞれの部分の名前を書きましょう。



- ② この虫の足は何本ありますか。

( 6本 )

- ③ 次の文章の( )にあてはまる言葉を書きましょう。

チョウは( たまご )→( よう虫 )→( さなぎ )→  
( せい虫 )のじゅんに育ちます。トンボやバッタは、たまご  
から( よう虫 )になり、何回か皮をぬいで( せい虫 )に  
なります。このようなこん虫は( さなぎ )にはなりません。

- ④ 次のこん虫の中から、チョウやトンボと同じ「こん虫」をすべて  
えらんで○でかこみましょう。

