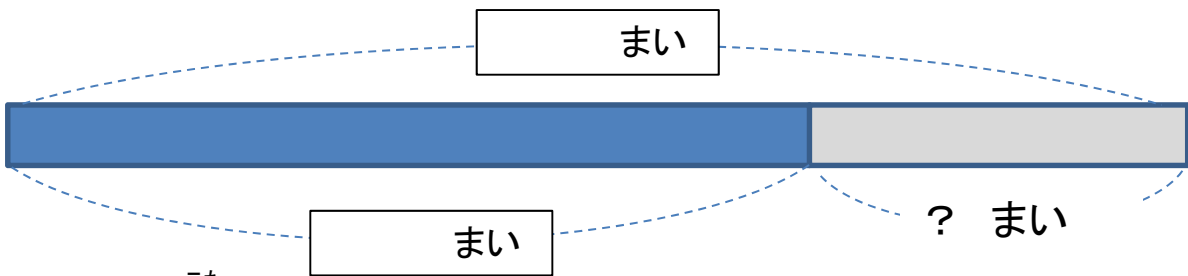


たし算と ひき算

/100

- ① 24まいのカードがあります。何まいか ^{なん} つかったので、のこりが 15まいになりました。つかったカードは何まいですか？ (20点)

下の テープ図の に ^{かず} 数を かきましょう。



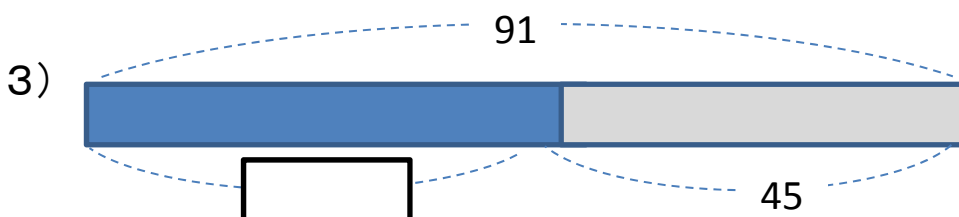
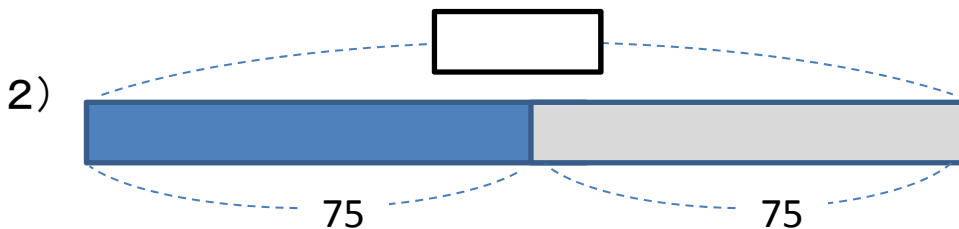
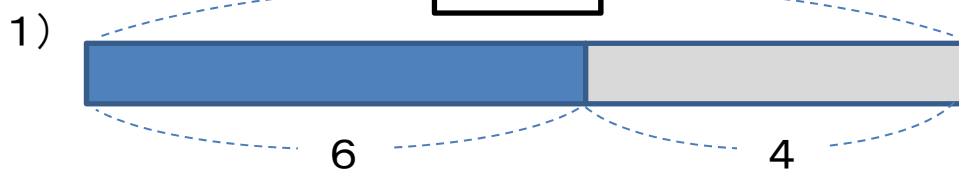
^{こた} しきと 答えを かきましょう。

しき

答え

- ② つぎの テープ図で に あてはまる 数をもとめましょう。

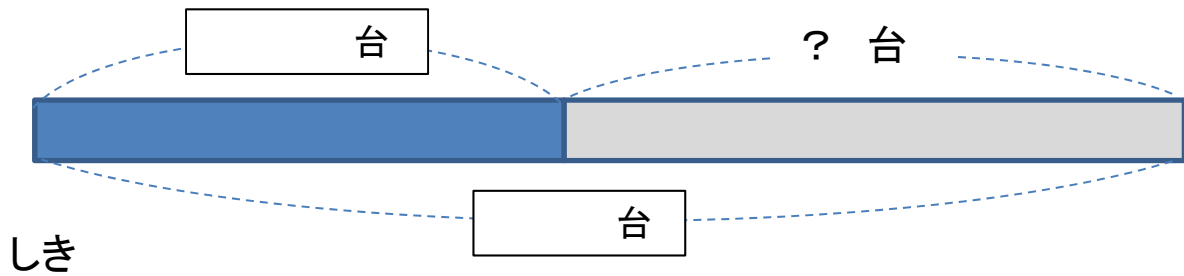
(1つ 10点)



ヒント

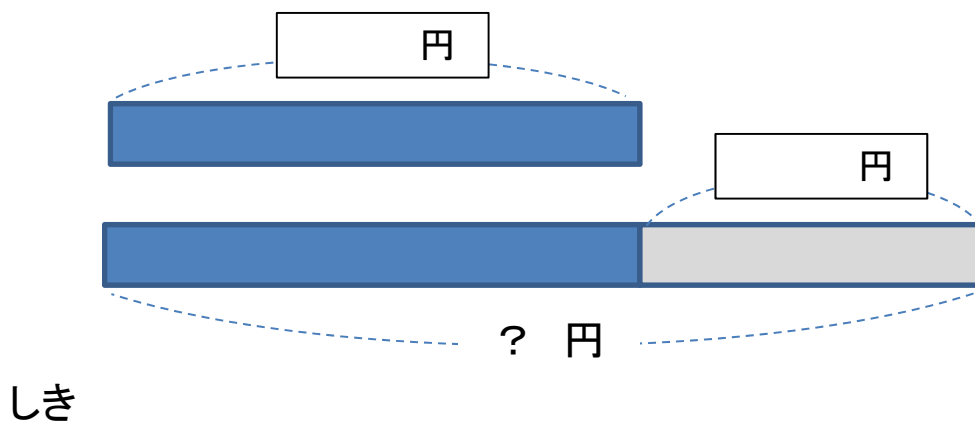
テープの 図を かくと、答えを もとめる 計算が わかります。

- ③ 車が 11台 とまって います。あとから 何台かきたので28台に なりました。あとから きたのは 何台ですか？ (25点)



答え

- ④ えんぴつの ねだんは 70円です。けしゴムの ねだんは えんぴつより 20円 たかいです。けしゴムの ねだんは 何円ですか？ (25点)



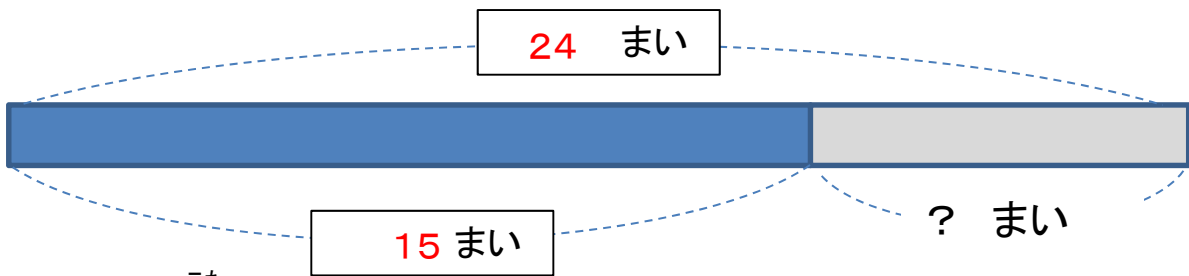
答え

たし算と ひき算

/100

- ① 24まいのカードがあります。何まいか ^{なん} つかったので、
のこりが 15まいになりました。つかったカードは
何まいですか？ (20点)

下の テープ図の に ^{かず} 数を かきましょう。



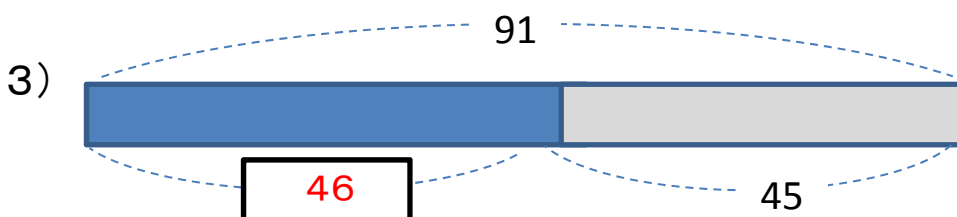
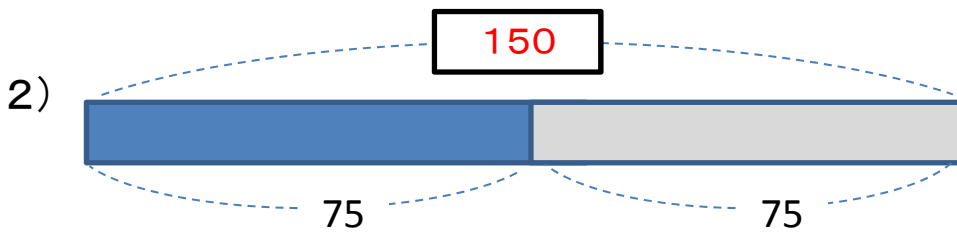
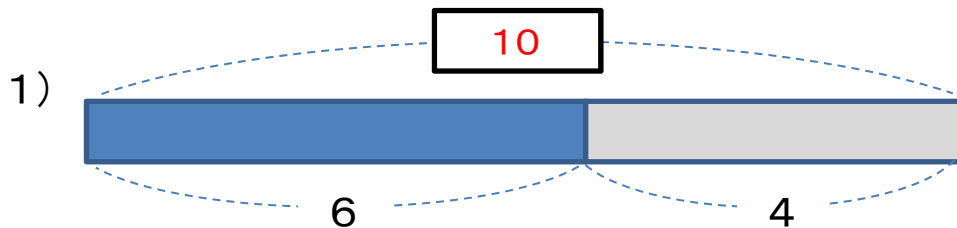
^{こた} しきと 答えを かきましょう。

しき $24\text{まい} - 15\text{まい} = 9\text{まい}$

答え **9まい**

- ② つぎの テープ図で に あてはまる 数をもとめましょう。

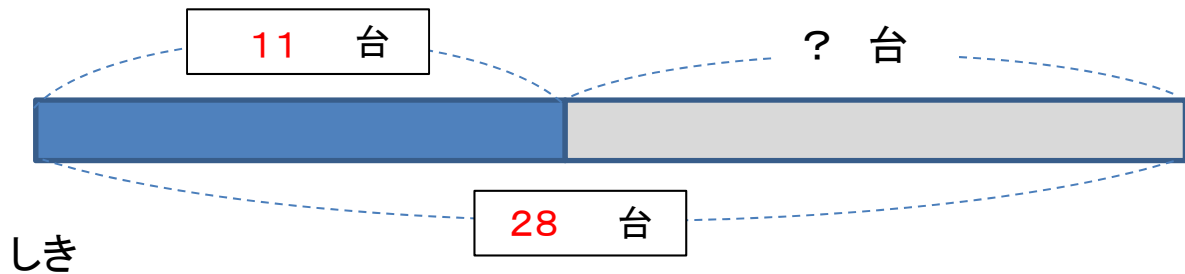
(1つ 10点)



ヒント

テープの 図を かくと、答えを もとめる 計算が わかります。

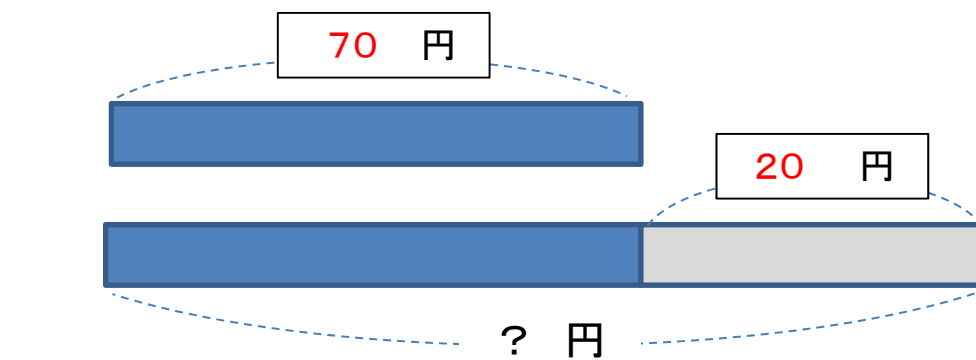
- ③ 車が 11台 とまって います。あとから 何台かきたので28台に なりました。あとから きたのは 何台ですか？ (25点)



$$28\text{台} - 11\text{台} = 17\text{台}$$

答え 17台

- ④ えんぴつの ねだんは 70円です。けしゴムの ねだんは えんぴつより 20円 たかいです。けしゴムの ねだんは 何円ですか？ (25点)



$$70\text{円} + 20\text{円} = 90\text{円}$$

答え 90円