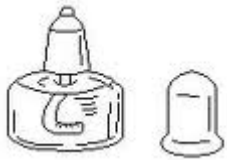


(1) 器具の名前を書きましょう。



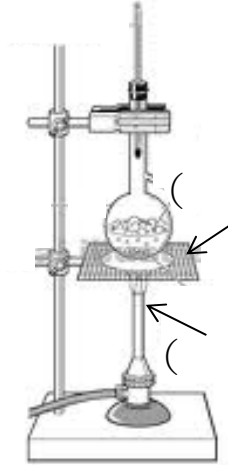
()



()

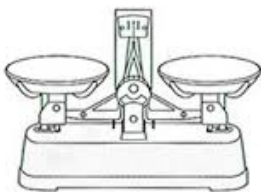


()



()

()



()



()



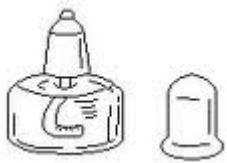
()

()

(2) アルコールランプの使い方について正しいものに○、まちがっているものに×をつけましょう。

- ㊦ () ぬれぞうきんや、もえがら入れを用意する。
- ㊧ () アルコールは使う分だけ少し入れる。
- ㊨ () 火が消えたので、となりのはんのアルコールランプから火をもらった。
- ㊩ () アルコールが少なくなったので、火をつけたままアルコールを入れた。
- ㊪ () ビーカーにほのおが当たるように、火をつける前に調節する。
- ㊫ () アルコールランプを消すときはふきけしてよい。
- ㊬ () 火をあつかうので、長すぎるそでや長いかみはあぶない。

(1) 器具の名前を書きましょう。



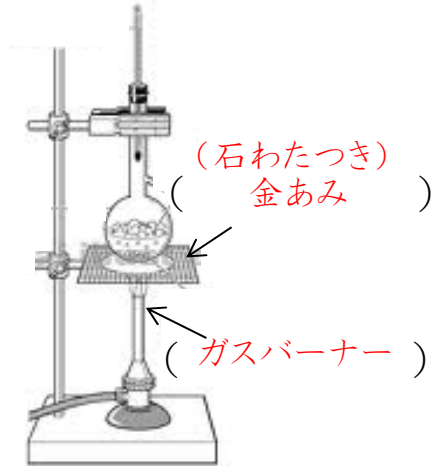
(アルコールランプ)



(分どう)

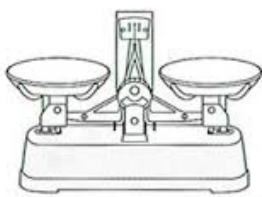


(ビーカー)



(石わたつき)
(金あみ)

(ガスバーナー)



(上皿天びん)



(メスシリンダー)



(試験管)

(スタンド)

(2) アルコールランプの使い方について正しいものに○、まちがっているものに×をつけましょう。

- ㊦ (○) ぬれぞうきんや、もえがら入れを用意する。
- ㊧ (×) アルコールは使う分だけ少し入れる。
- ㊨ (×) 火が消えたので、となりのはんのアルコールランプから火をもらった。
- ㊩ (×) アルコールが少なくなったので、火をつけたままアルコールを入れた。
- ㊪ (○) ビーカーにほのおが当たるように、火をつける前に調節する。
- ㊫ (×) アルコールランプを消すときはふきけしてよい。
- ㊬ (○) 火をあつかうので、長すぎるそでや長いかみはあぶない。