

# じしゃく①

① 次のもののうち、じしゃくにつくものには○、つかないものには×をつけましょう。

① 鉄のくぎ




( )

② アルミ缶



( )

③ ビー玉



( )

④ 鉄のはさみ



( )

⑤ えんぴつ



( )

⑥ りんご



( )

⑦ けしごお



( )

⑧ コップ



( )

⑨ 本



( )

⑩ 鉄のペンチ



( )

⑪ 鉄のクリップ



( )

⑫ チョコレート



( )

じしゃくには①鉄を引きつけ、②北（南）をさすはたらきがあります。



② 下の図で、じしゃくを近づけると、引きあうものには○、しりぞけあうものには×をつけましょう。

①



( )

②



( )

③



( )

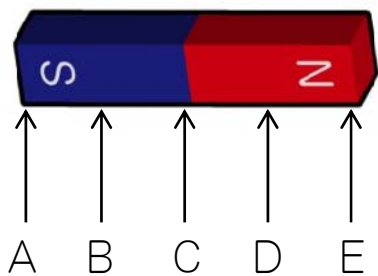
④



( )

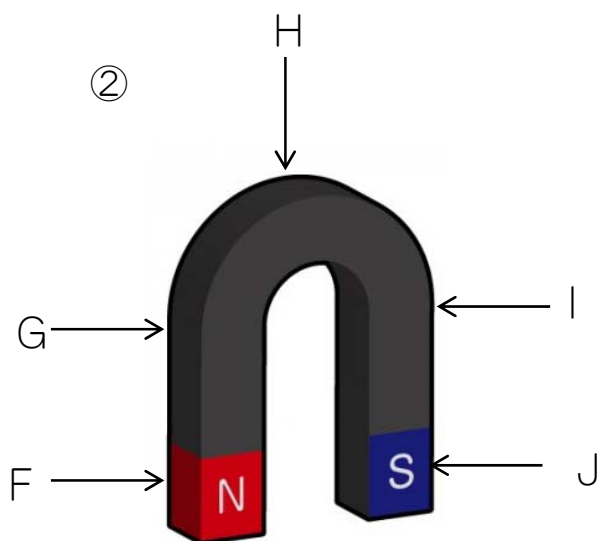
③ 次のじしゃくで、引きつける力が強いところは、①～⑤のどこですか。番号で答えましょう。

①



( ) ( )

②



( ) ( )

回答

じしゃく①

① 次のもののうち、じしゃくにつくものには○、つかないものには×をつけましょう。

① 鉄のくぎ



( ○ )

② アルミ缶



( × )

③ ビー玉




( ○ )

④ 鉄のはさみ



( × )

⑤ えんぴつ



( × )

⑥ りんご



( × )

⑦ けしごお



( × )

⑧ コップ



( × )

⑨ 本



( × )

⑩ 鉄のペンチ



( ○ )

⑪ 鉄のクリップ



( ○ )

⑫ チョコレート



( × )

回答

は①鉄を引きつけ、②北（南）をさすはたらきが



② 下の図で、じしゃくを近づけると、引きあうものには○、しりぞけあうものには×をつけましょう。

①



( ○ )

②



( × )

③



( × )

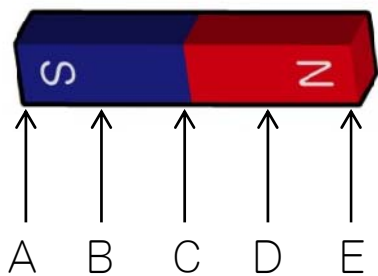
④



( ○ )

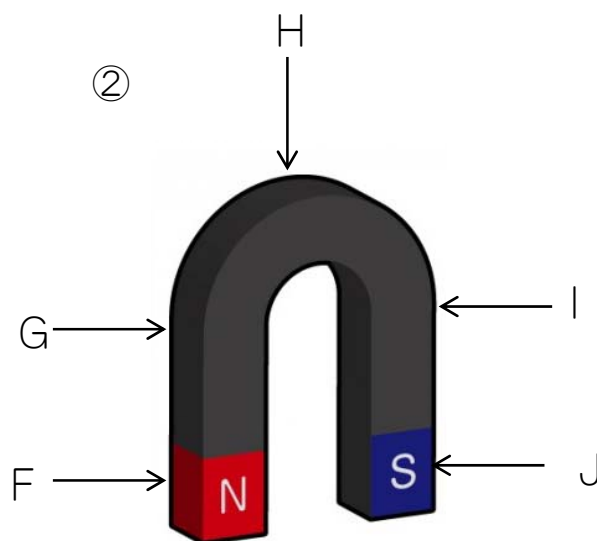
③ 次のじしゃくで、引きつける力が強いところは、①～⑤のどこですか。番号で答えましょう。

①



( A ) ( E )

②



( F ) ( J )