


ぶんしょうだい ①

(1) あわせると なんほんに なりますか。

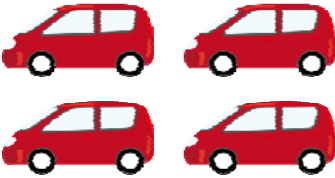


$$\square + \square = \square$$

こたえ

ほん

(2) ふえると なんだいに なりますか。



$$\square + \square = \square$$

こたえ

だい

(3) いちごが 5こ あります。3こ ともだちに あげ
ました。のこりは なんこですか。

しき

こたえ

(4) いぬが 6ひき いました。2ひき にげました。
のこりは なんびきですか。

しき

こたえ


ぶんしょうだい ②

(1) すずめが 7ひき いました。3ひき とんで きました。ぜんぶで なんびきに なりましたか。
しき



こたえ

(2) めだかを 10ひき かって います。おみせで 4ひき かって もらいました。あわせて なんびきに なりますか。
しき



こたえ

(3) しゃこに くるまが 5だい とまって います。2だい でて きました。なんだい のこって いますか。
しき



こたえ


(4) しょくぱんが 8まい ありました。そのうち 3まい たべました。まだ のこっているのは なんまい でしょうか。
しき



こたえ


ぶんしょうだい ③

(1) ビスケットを 5まい もっています。4まい もら
いました。あわせて なんまいに なったでしょう。
しき



こたえ

(2) せんべいが 6まい あります。5まい やきあが
りました。ぜんぶで なんまいに なりますか。
しき



こたえ

(3) どんぐりひろいで みかちゃんは 13こ、あつし
くんは 11こ ひろいました。どちらが どれだけ おお
く ひろいましたか。
しき



こたえ

(4) こどもが 10にん あそんでいました。4にん か
えりました。なんにん のこって いますか。
しき




こたえ

回答

な
ま
え

ぶんしょうだい ①

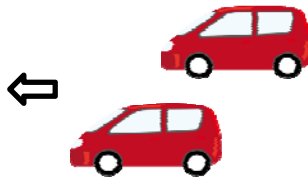
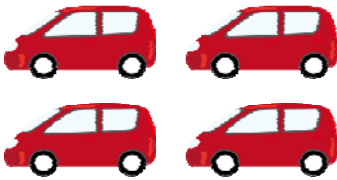
(1) あわせると なんほんに なりますか。



$$\boxed{3} + \boxed{2} = \boxed{5}$$

こたえ $\boxed{5}$ ほん

(2) ふえると なんだいに なりますか。



$$\boxed{4} + \boxed{2} = \boxed{6}$$

2だい くと

こたえ $\boxed{6}$ だい

(3) いちごが 5こ あります。3こ ともだちに あげ
ました。 のこりは なんこですか。

しき

$$5 - 3 = 2$$

こたえ 2こ

(4) いぬが 6ひき いました。2ひき にげました。
のこりは なんびきですか。

しき

$$6 - 2 = 4$$

こたえ 4ひき

回答

な ま え	
-------------	--

ぶんしょうだい ②

(1) すずめが 7ひき いました。3ひき とんで きました。ぜんぶで なんびきに なりましたか。
しき



$$7 - 3 = 4$$

こたえ 4ひき

(2) めだかを 10ひき かって います。おみせで 4ひき かって もらいました。あわせて なんびきになりますか。
しき



$$10 + 4 = 14$$

こたえ 14ひき

(3) しゃこに くるまが 5だい とまって います。2だい でて きました。なんだいのこっていますか。
しき



$$5 - 2 = 3$$

こたえ 3だい

(4) しょくぱんが 8まい ありました。そのうち 3まい たべました。まだ のこっているのは なんまい でしょうか。
しき



$$8 - 3 = 5$$

こたえ 5まい

回答

な ま え	
-------------	--

ぶんしょうだい ③


(1) ビスケットを 5まい もっています。4まい もらいました。あわせて なんまいに なったでしょう。

しき

$$5 + 4 = 9$$

こたえ

9まい




(2) せんべいが 6まい あります。5まい やきあがりました。ぜんぶで なんまいに なりますか。

しき

$$6 + 5 = 11$$

こたえ

11まい



(3) どんぐりひろいで みかちゃんは 13こ、あつくんは 11こ ひろいました。どちらが どれだけ おおく ひろいましたか。

しき

$$13 - 11 = 4$$

こたえ

みかちゃんが4こおおい



(4) こどもが 10にん あそんでいました。4にん かえりました。なんにん のこって いますか。

しき

$$10 - 4 = 6$$

こたえ

6にん

